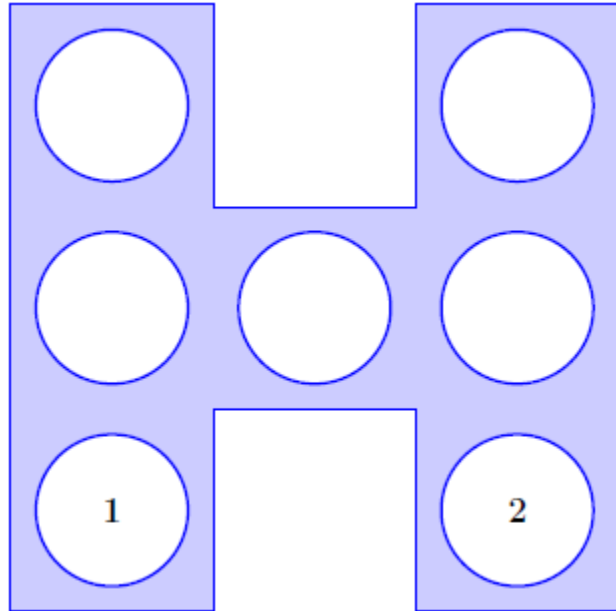


DEFI N°3 - CE1

1. Le H magique

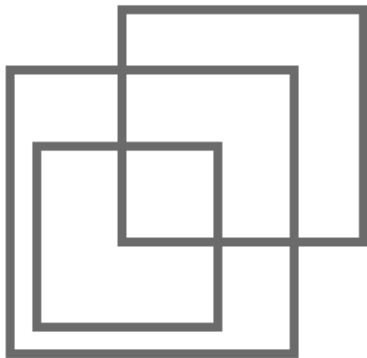
10 points

Place les nombres de 3,4, 5, 6 et 7 dans les cases vides de telle sorte que la somme des nombres disposés en ligne, en colonne ou en diagonale soit toujours égale à 12.



2 Les carrés emboîtés

10 points



Combien y-a-t-il de carrés ?

3 Une logique

10 points

Complète la suite logique.

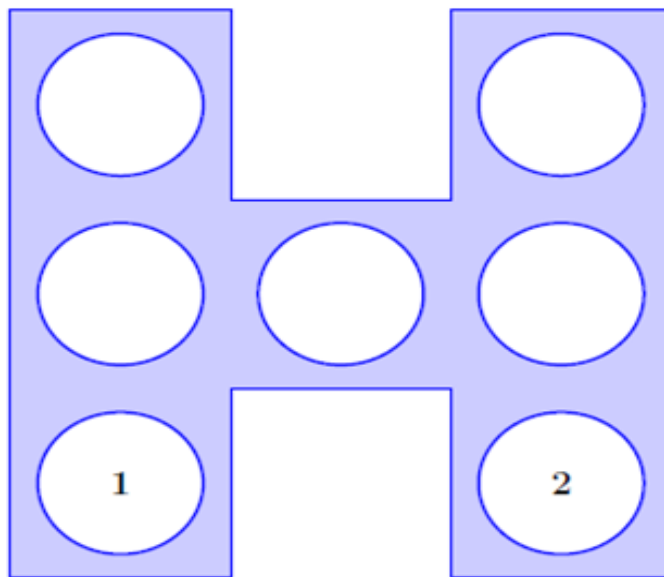
ABC	CBA	CDE	EDC	EFG					
-----	-----	-----	-----	-----	--	--	--	--	--

DEFI N° 1 CE1 Fiche réponse

Ecole : .....
Enseignant : .....

Classe : .....
----------------

1. Le H magique (10 points)



2. les carrés emboîtés (10 points)

Il y a ..... Carrés.

3. La logique (10 points)

ABC	CBA	CDE	EDC	EFG					
-----	-----	-----	-----	-----	--	--	--	--	--

Score : /30
-------------

# DEFI MATH 2018/2019

AIDE POSSIBLE

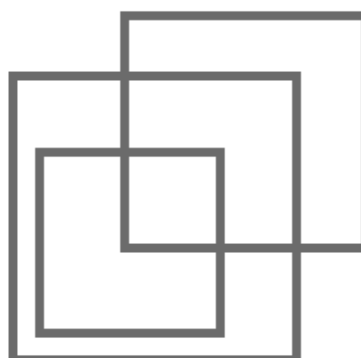
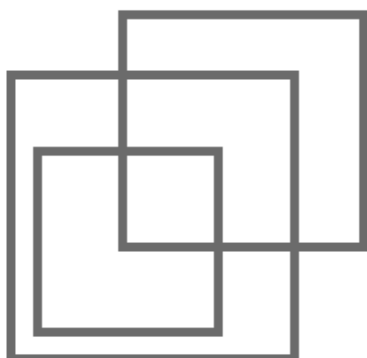
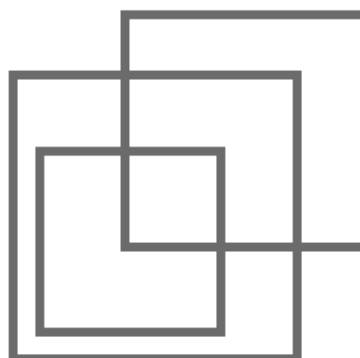
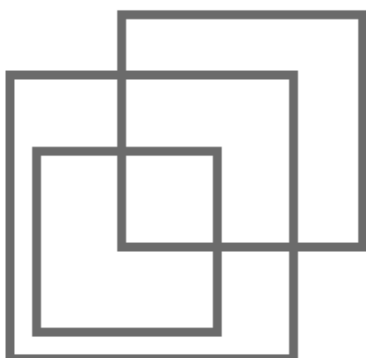
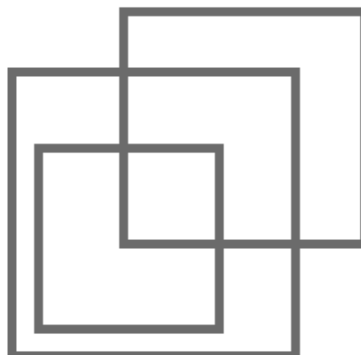
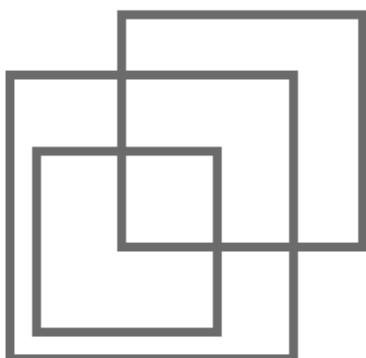
**Bandes à compléter**

ABC	CBA	CDE	EDC	EFG					
-----	-----	-----	-----	-----	--	--	--	--	--

ABC	CBA	CDE	EDC	EFG					
-----	-----	-----	-----	-----	--	--	--	--	--

ABC	CBA	CDE	EDC	EFG					
-----	-----	-----	-----	-----	--	--	--	--	--

**Les carrés à colorier**



DEFI MATH 2018/2019

